

## Domácí úkol č.2

7. ročník, 1.pololetí

1. Zjisti, zda jsou čísla dělitelná čísly 1,2 .....10:

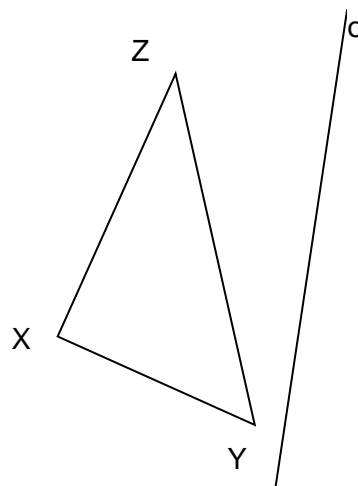
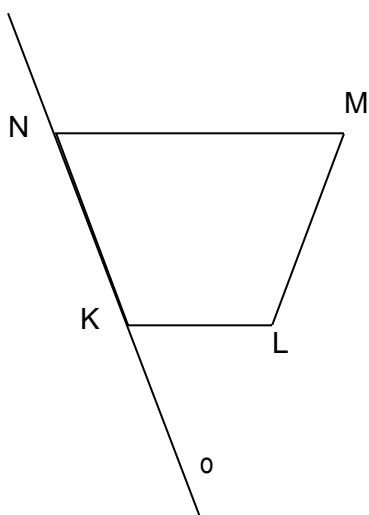
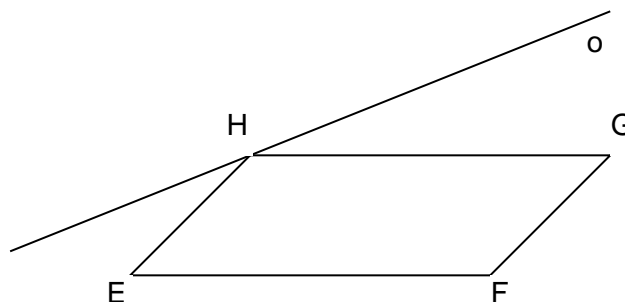
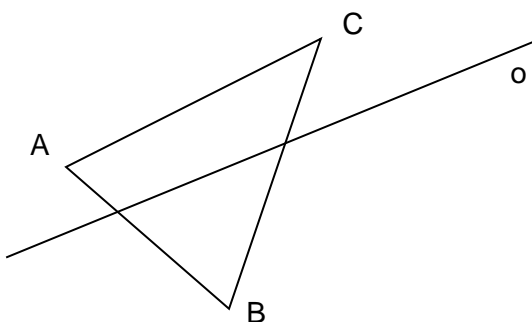
476 :

12000:

750:

88:

2) Sestroj obraz rovinných útvarů v osové souměrnosti podle osy  $o$ .



Podpis rodičů: